


nombre

curso

fecha

ACTIVIDADES: COMPRENDIENDO LAS FRACCIONES (I)

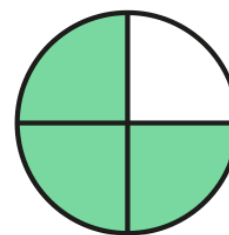
1. Pinta las figuras que están divididas en partes iguales:



2. Completa los espacios en blanco:

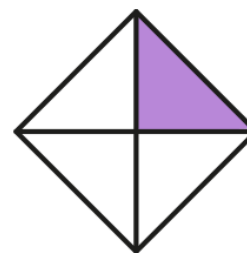
a) La figura está dividida en partes iguales.
Hay partes pintadas.


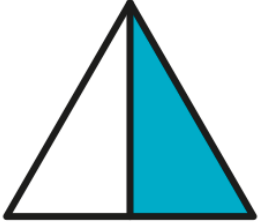
..... partes de la figura están pintadas















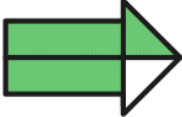


b) La figura está dividida en partes iguales.
Hay parte pintada.

..... partes de la figura están pintadas



<p>c) La figura está dividida en partes iguales. Hay partes pintadas.</p> <p>..... partes de la figura están pintadas</p>	
<p>d) La figura está dividida en partes iguales. Hay parte pintada.</p> <p>..... partes de la figura están pintadas</p>	

3. Marca con una cruz el dibujo donde la parte pintada corresponda a la fracción escrita en palabras:

<p>a) Un cuarto</p>			
<p>b) Un tercio</p>			
<p>c) Un medio</p>			
<p>d) Dos tercios</p>			
<p>e) Tres cuartos</p>			

4. Pinta las partes de cada figura y que corresponda a la fracción escrita en palabras:

a) Un medio			
b) Dos cuartos			
c) Un cuarto			
d) Dos tercios			
e) Un tercio			
f) Tres tercios			
g) Tres cuartos			

Elaborado por: Fabiola Sotelo A.