

PAUTA ACTIVIDADES: ESTIMAR CANTIDADES


1. Observe las imágenes de animales que se ven en la guía, durante 10 segundos. Sin contar, ¿cuántos animales estima que hay?



Respuesta:

un número cercano a 12

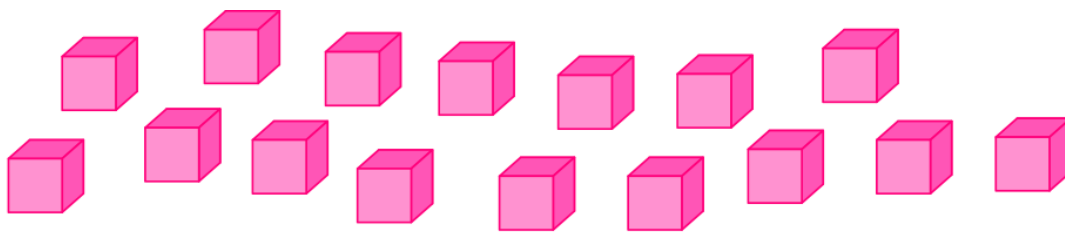
2. Observe las bolitas que hay en la bolsa de la izquierda y estime la cantidad de bolitas que hay en la bolsa de la derecha. Compare su estimación con la de su compañero de banco.



Respuesta:

un número cercano a 15

3. Estime visualmente la cantidad de cubos que se muestra en el dibujo y luego cuente, agrupando de a 2 o de a 5, para comprobar la estimación dada.



Respuesta:

un número cercano a 16

4. Estime visualmente los animales de la lámina:




Para comprobar su estimación use las estrategias de agrupar de a 2 o de a 5 y explique dibujando la estrategia usada:

Respuesta:

un número cercano a 20

5. Estime sin contar y en forma muy rápida la cantidad de esferas y cilindros que hay solo mirando las figuras durante 15 segundos.



Responden las siguientes preguntas:

- Al estimar ¿hay más esferas o cilindros?

Debiera decir que hay más cilindros.

- ¿Cuántas más esferas o cilindros hay?

Hay más o menos 3 o 4 cilindros más.

Elaborado por: Ministerio de Educación de Chile.