












ACTIVIDADES: ECUACIONES QUE INVOLUCREN ADICIONES Y SUSTRACCIONES


1. Si el valor de  es 5, calcule:












 + 2 =	
20 -  =	

 + 1 =	
5 -  =	

2. Encuentre el valor de  en la siguiente expresión:

 - 8 = 20	El valor de  es:
 + 5 = 9	El valor de  es:
 +  = 8	El valor de  es:

3. Encuentre el valor de  en cada caso:

 +  = 4	El valor de  es:
 + 6 = 7	El valor de  es:
 +  +  = 9	El valor de  es:
 - 10 = 2	El valor de  es:

4. Encuentre el valor de  en la siguiente expresión:

$$\img alt="gift box" data-bbox="149 612 254 678"/> + \img alt="gift box" data-bbox="304 612 409 678"/> + 4 = \img alt="gift box" data-bbox="519 612 624 678"/> + 10$$

El valor de  es: